

108年公務人員特種考試警察人員、一般警察人員考試及  
108年特種考試交通事業鐵路人員、退除役軍人轉任公務人員考試試題

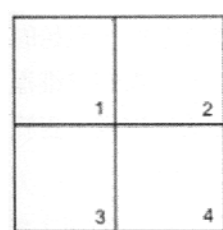
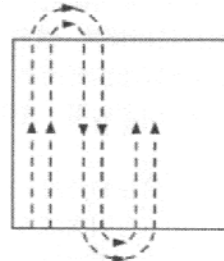
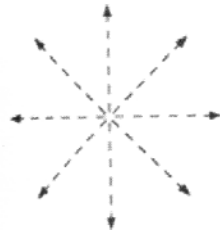
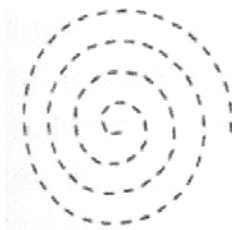
代號：5509  
頁次：5-1

考試別：警察人員考試  
等別：三等考試  
類科別：刑事鑑識人員  
科目：犯罪偵查  
考試時間：1小時

座號：\_\_\_\_\_

※注意：(一)本試題為單一選擇題，請選出一個正確或最適當的答案，複選作答者，該題不予計分。  
(二)本科目共50題，每題2分，須用2B鉛筆在試卡上依題號清楚劃記，於本試題上作答者，不予計分。  
(三)禁止使用電子計算器。

- 下列那些是適格偵查人員應具備之辦案核心能力？①犯罪證據蒐採與處理 ②現場物證比對與鑑定 ③犯罪情資分析與應用 ④偵查及移送法定程序 ⑤新聞媒體溝通與協調  
(A)①③④ (B)①④⑤ (C)②③④ (D)③④⑤
- 被害人指證在公園某處遭人持刀恐嚇取財，警察進行現場勘察，在現場周邊尋獲歹徒丟棄之西瓜刀，採取刀柄上之生物跡證，經由DNA比對，找出歹徒身分，最後逮捕歹徒破案。下列何種理論最能解釋上述破案過程？  
(A)路卡理論 (B)痕跡理論 (C)桌腳理論 (D)四面向連結理論
- 依據鑑識分析特性來分類物證，可分成物理性、化學性和生物性，下列那些正確？①油漆屬生物性 ②工具痕跡屬物理性 ③爆炸物殘跡屬化學性 ④輪胎痕屬物理性 ⑤毛髮屬生物性  
(A)①②③④⑤ (B)②③④⑤ (C)①②③⑤ (D)①②④⑤
- 關於犯罪剖繪之適用範圍，下列何者正確？  
(A)犯嫌必須在犯罪過程中出現正常人格特質 (B)特別適用在單一案件  
(C)適用於所有刑事案件 (D)適用於犯嫌與被害人互動多的案件
- 依照犯罪分類手冊（Crime Classification Manual），下列何者不是縱火犯罪動機類型？  
(A)破壞型 (B)報復型 (C)掩飾犯罪型 (D)權力控制型
- 下列何者係基於數學機率之計算以達個化（individualization）效果？①指紋 ②DNA ③個異性鞋印 ④彈頭來復線  
(A)僅② (B)①② (C)①②③ (D)①②④
- 有關物證分類與應用之觀念，下列何者錯誤？①刑案現場茶杯口之犯嫌唾液為關聯性物證 ②犯嫌身上之被害人手機為移轉性物證 ③同卵雙胞胎指紋不同 ④基本上，同卵雙胞胎DNA相同  
(A)①② (B)②③ (C)②④ (D)③④
- 依照警察偵查犯罪手冊，下列何者正確？①勘察組對於現場附近之環境、交通狀況及案發當時之天候、風向、氣溫等進行必要之觀察 ②調查組應研判犯罪嫌疑人進出路線、犯罪時間、方法、手段、工具、犯行、過程等，以明瞭犯罪事實 ③如案情需要，調查組應對現場相關處所進行搜查，尋找可能遺留之各種跡證 ④勘察組應運用科學技術與方法勘察現場、蒐集證據，作為犯罪偵查或法庭偵審之證據  
(A)①② (B)①③ (C)②④ (D)③④
- 某公寓室內命案現場之系統化物證搜尋，應採用下列何種方式最適合？  
(A)螺旋式 (B)放射式 (C)線條式 (D)分區式



- 10 現場重建七步驟，依序應為下列何者：①提出假設 ②驗證 ③資訊蒐集 ④重建報告 ⑤跡證辨識 ⑥狀況評估測定 ⑦跡證紀錄  
(A)①③⑤⑦⑥②④ (B)⑤⑦③⑥①②④ (C)⑥⑤⑦①③④② (D)⑥⑤⑦③④①②
- 11 依照警察機關實施指認犯罪嫌疑人注意事項之規定，下列何者不得實施單一指認？  
(A)社會知名人士 (B)曾與指認人近距離接觸者  
(C)經當場或持續追緝而逮捕之現行犯 (D)與指認人互為熟識者
- 12 Reid 偵詢技術共有九個步驟，依序為：①說辭發展 ②克服反駁 ③提出一個非此即彼的選項 ④操弄犯嫌被動情緒 ⑤讓犯嫌敘述各種犯罪細節 ⑥由口頭供述轉為書面供述 ⑦處理否認 ⑧取得並維持犯嫌的注意 ⑨正面對質  
(A)⑨①⑦②⑧④③⑤⑥ (B)①⑨②⑦④⑧③⑤⑥ (C)①③②④⑤⑨⑦⑥⑧ (D)⑨①②③④⑦⑤⑧⑥
- 13 有關跟蹤與監視之實施，下列何者錯誤？①合稱為跟監，亦稱為行動蒐證 ②法律依據為警察偵查犯罪手冊 ③係對於無隱私或秘密合理期待之行為或生活情形而為之 ④得以目視、衛星定位器或科技工具進行  
(A)①② (B)②③ (C)②④ (D)③④
- 14 對於監視器之偵查作為，下列何者正確？①法律依據為警察職權行使法 ②為維護個人隱私，警察不得協調相關機關（構）裝設監視器 ③非因調查犯罪嫌疑或其他違法行為，有保存必要者外，至遲應於資料製作完成時起 3 年內銷毀之 ④除法律另有特別規定外，因調查犯罪嫌疑或其他違法行為所保存之監視器蒐集資料，至遲應於資料製作完成時起 5 年內註銷或銷毀之  
(A)①④ (B)②③ (C)②④ (D)③④
- 15 下列何者不是錄影監視影像之觀察方法？  
(A)時間次序法 (B)特定目標比對法 (C)同心圓交叉比對法 (D)逐一畫面分析法
- 16 對於監視影像調取，下列何者錯誤？  
(A)拷貝私人監視系統影像，必須拷貝專用播放程式  
(B)私人監視系統影像保存期限較公有系統長  
(C)調閱公有或私人監視系統影像皆需校對系統時間誤差  
(D)案發初期應以犯罪現場為中心大範圍調取監視影像
- 17 關於行動通訊裝置可能存在數位證據的位置，下列何者正確？  
(A)SIM 卡包含手機門號、IMEI 及通訊錄資訊  
(B)內建儲存空間包含簡訊、通話紀錄、IMSI 資訊  
(C)外接儲存空間（如 SD 卡）主要儲放文件和照片資訊  
(D)文件、照片及影片可存放於雲端
- 18 涉及系統入侵或網路重大犯罪刑案現場之數位證物蒐證，得請求下列何單位協助？①直轄市、縣（市）政府警察局刑事警察（大）隊科技偵查專責隊（組）②內政部警政署刑事警察局科技犯罪防制中心 ③內政部警政署刑事警察局偵查第九大隊 ④內政部警政署刑事警察局科技研發科  
(A)①② (B)①③ (C)②③ (D)③④
- 19 進行刑案現場數位鑑識，針對智慧型手機處理方式，下列何者錯誤？①開啟飛航模式避免資料遭遠端清除 ②需取得 PIN CODE 及密碼（含圖形鎖）③手機如為開機應予關機，避免電力耗盡 ④擷取揮發性及邏輯性資料，應首選以筆記方式記錄所有操作之動作  
(A)①② (B)②③ (C)③④ (D)①④
- 20 下列何者不是社群網路所提供的個人資訊類型？  
(A)社群連結與相關人 (B)位置資料 (C)對象上網瀏覽紀錄 (D)貼文內容
- 21 下列何者未與我國簽署共同打擊犯罪暨警政合作協定（議）？  
(A)日本 (B)美國 (C)越南 (D)泰國

- 22 有關偵查勤務，下列何者錯誤？  
(A)值日小隊負責受理報案  
(B)地區探訪包括人的查訪、處所查訪和預防犯罪  
(C)巡邏以銀行、超商或大賣場等金融匯集處所為主  
(D)刑案偵查包括布建諮詢
- 23 有關第三、四級毒品裁罰，下列何者錯誤？①裁罰對象以無正當理由持有未達 20 公克之第三級或第四級毒品者為限 ②由各警察分局辦理裁罰 ③處分書之處罰內容包括罰鍰、毒品危害講習和沒入 ④由直轄市、縣市政府衛生局辦理講習  
(A)①② (B)②③ (C)②④ (D)③④
- 24 有關詢問 (interview) 和偵訊 (interrogation) 之比較，下列何者錯誤？  
(A)詢問為任意處分，偵訊為強制處分  
(B)詢問為非指控，偵訊為指控  
(C)詢問為開放式，偵訊為結構式  
(D)詢問之實施，偵查人員提問多；偵訊之實施，偵查人員提問少
- 25 有關錄影監視影像之偵查功能，下列何者最薄弱？  
(A)重建犯罪過程 (B)查出歹徒住處  
(C)查明歹徒丟棄或遺留物證 (D)人臉辨識歹徒身分
- 26 刑事訴訟法第 93 條第 6 項中：所稱「深夜」，係指下列何時段？  
(A)午後 11 時至翌日午前 8 時 (B)翌日凌晨 0 時至午前 6 時  
(C)翌日凌晨 0 時至午前 8 時 (D)午後 11 時至翌日午前 6 時
- 27 非附隨於搜索之扣押，除以得為證據之物而扣押或經受扣押標的權利人同意者外，應經何程序決定執行扣押？  
(A)應由現場司法員警認定執行 (B)應經司法警察機關主管長官決定  
(C)應經檢察官同意 (D)應經法官裁定
- 28 近年來，應用錄影監視影像輔助犯罪偵查，已有重大成效。其中偵查人員調閱特定對象行動的「來線」、「去線」，是依時間先後順序，逐一觀看錄影監視影像，以搜尋歹徒情資，此觀察方法稱之為：  
(A)逐一畫面分析法 (Frame by Frame Analysis Method)  
(B)時間區段比對法 (Time-Period Matching Method)  
(C)時間次序法 (Time-Sequence Method)  
(D)特定目標比對法 (Target Matching Method)
- 29 拘提或因通緝逮捕之被告，應於 24 小時內解送指定之處所。遇有特殊情形時，其經過之時間不予計入。下列「特殊情形」的敘述，何者為非？  
(A)司法警察官或司法警察於夜間停止詢問犯罪嫌疑人所經時間  
(B)被告或犯罪嫌疑人因表示選任辯護人之意思，而等候辯護人到場致未予訊問者。但等候時間不得逾 6 小時  
(C)被告或犯罪嫌疑人須由通譯傳譯，因等候其通譯到場致未予訊問者。但等候時間不得逾 6 小時  
(D)經檢察官命具保或責付之被告，在候保或候責付中者。但候保或候責付時間不得逾 4 小時
- 30 通知證人之通知書應於應到時間多久前送達之？  
(A)12 小時前 (B)24 小時前 (C)3 日前 (D)7 日前
- 31 下列關於刑事案件送達證書的敘述，何者為非？  
(A)送達人應製作送達證書，交應受送達人簽名、蓋章或按指印  
(B)如未獲會晤應受送達人者，得將文書交予有辨別事理能力之同居人或受僱人代收  
(C)應受送達人拒絕收領而無法律上理由者，應將通知書正本附卷備查  
(D)郵寄送達者，應將回執附卷備查
- 32 為偵辦跨國性毒品犯罪，偵查機關得依據毒品危害防制條例規定，提出「控制下交付」偵查策略之偵查計畫書，並經最高法院檢察署檢察總長核可後，核發偵查指揮書，由入、出境管制相關機關許可毒品及人員入、出境。請問下列何者不屬於前述之「入、出境管制機關」？  
(A)法務部調查局航業調查處 (B)內政部警政署航空警察局  
(C)海洋委員會海巡署 (D)財政部關務署

- 33 實施現場勘察應注意下列事項，下列何者為非？  
(A)進入現場應著刑案現場勘察服，及必要之防護裝備（如帽套、手套、鞋套等），避免將自身跡證轉移至現場  
(B)處理重大複雜案件現場，宜設明確動線（例如使用斑馬線或抗污紙墊），以降低勘察人員在現場中走動破壞跡證之可能  
(C)命案現場應立即了解被害人身分，同時進行屍體勘察，於檢察官到場後立刻報告屍體勘察結果  
(D)勘察現場發現爆裂物或疑似爆裂物時，應先通報刑事警察局防爆人員至現場排除，確定無安全顧慮後，始續行勘察
- 34 警察人員到達刑案現場後，宜先觀察全場，了解發生之事故，下列處置作為，何者不正確？  
(A)立即實施現場封鎖，非經勘察組組長同意，任何人不得進入  
(B)現場因燈光照明不足，於打開電燈前應先完成開關原始狀況之採證、蒐證及紀錄  
(C)注意犯罪嫌疑人是否藏匿於現場或混雜於圍觀群眾中  
(D)現場為室內時，應注意犯罪嫌疑人進入和逃離現場之路線及方法
- 35 下列何者非屬去氧核醣核酸採樣條例所稱之司法警察機關？  
(A)行政院海岸巡防署 (B)內政部入出國及移民署  
(C)法務部調查局 (D)法務部廉政署
- 36 依據去氧核醣核酸採樣條例第 8 條，下列何者不屬於「證明書」應記載事項？  
(A)被採樣人之國民身分證統一編號 (B)採樣去氧核醣核酸之方法  
(C)採樣去氧核醣核酸之時間 (D)採樣去氧核醣核酸之機關
- 37 查獲製造毒品先驅原料，應追查原料之來源，並通報何單位？  
(A)衛生福利部食品藥物管理署 (B)內政部警政署  
(C)法務部調查局 (D)法務部最高檢察署
- 38 從感冒止咳藥裡萃取提煉毒品的「紅磷法製程」，會經過還原法及純化結晶階段，因無刺鼻性及酸性氣體味關係，時常隱身於市區大樓內。請問「紅磷法製程」是屬於那一種毒品的製程方法？  
(A)海洛因（heroin） (B)甲基安非他命（Methamphetamine）  
(C)K 他命（Ketamine） (D)甲氧麻黃酮（Mephedrone）
- 39 在 105 年間，震驚全國的第一銀行 ATM 提款機遭盜領新臺幣 8000 餘萬元，其中該犯罪組織 A 嫌犯先將藏放前述多數現金之 3 只行李箱藏在臺北車站北一門地下一樓置物櫃；3 日後，由 B、C 二嫌至該處取走 3 只行李箱，搭乘計程車離開前往五星級飯店藏匿。過程中 A 與 B、C 雙方互不碰面、亦互不認識，此種轉換贓物手法，稱之為？  
(A)死轉手 (B)活轉手 (C)暗轉手 (D)明轉手
- 40 下列關於新興詐欺中「假冒機構」詐財之作案手法（Modus Operandi）的敘述，何者為非？  
(A)大多假冒警察、檢察官辦案為由  
(B)多數詐欺集團會向被害人聲稱其金融帳號遭盜用，涉及洗錢防制法  
(C)詐欺集團主要會透過網路聊天方式，暗示可從事性交易，並要求被害人至自動提款機進行身分辨識  
(D)被害人大都親自至金融機構提領存款，再將現金當面交給車手
- 41 行動電話國際移動裝備辨識碼（International Mobile Equipment Identity，簡稱為 IMEI）具有犯罪偵查的意義及功能，主要是 IMEI 碼具有獨一無二的特徵，請問該特徵主要指下列何項編碼？  
(A)批准型號碼（Type approval Code） (B)最後組裝地碼（Final Assembly）  
(C)出廠序號碼（Serial Number） (D)備用碼（Spare）
- 42 檢察官、司法警察官為偵辦刑事案件且有需要時，得由檢察官依職權或司法警察官向檢察官聲請同意後，調取通信紀錄。下列所列偵查案類，何者不符合前述規定，而是應經法官核准？  
(A)偵查陳小甲涉嫌新興詐欺案件 (B)偵查張小乙涉嫌連續住宅竊盜案件  
(C)偵查林小丙涉嫌連續機車搶奪案件 (D)偵查王小丁涉嫌走私海洛因案件

- 43 為避免國家安全遭受危害，而有監察通訊，以蒐集外國勢力或境外敵對勢力情報之必要者，綜理國家情報工作機關首長得核發通訊監察書。其通訊監察期間，每次最長期間為何？  
(A)30 日 (B)3 個月 (C)半年 (D)1 年
- 44 實施指認，應依指認人描述之犯罪嫌疑人特徵，安排於外型無重大差異之被指認人，供指認人進行真人選擇式列隊指認。請問前述指認應安排多少名以上被指認人？  
(A)5 人 (B)6 人 (C)7 人 (D)8 人
- 45 現場重建是多元證物共構與交互作用下的產物，如何將多元證據轉換成系統性、組織性與邏輯性的現場重建元素，則有賴於證物的有效分類與整合。實際案例：一個腳印明顯落在輪胎痕上，則可顯示有某個人在車輛離開後，曾在現場走動。請問，上例可用於建立或有助於建立某一事件或更多事件發生的證據，稱之為：  
(A)接續性證據 (Sequential Evidence) (B)指引性證據 (Directional Evidence)  
(C)行動性證據 (Action Evidence) (D)結合性證據 (Associative Evidence)
- 46 依據「刑事鑑識手冊」之規定，關於唾液檢體之採樣，下列何者錯誤？  
(A)有嚼食檳榔或採樣前有進食者，宜請被採樣人漱口後再進行採樣  
(B)以棉棒擦拭被採樣人口腔二側之黏膜細胞  
(C)共須採樣二枝棉棒，一枝進行 DNA 萃取，另一枝備份  
(D)樣本採集卡風乾後保存
- 47 偵辦性侵害案件時，下列何者屬於「不適當」的詢問方法？  
(A)被害人為女性時，原則上指派女性警察同仁詢問  
(B)詢問被害人及製作筆錄，如非確有必要，應以一次詢畢為原則  
(C)被害人如為兒童或少年，應使用其能了解之語言，多採用「是/否」的問句，使其能充分了解詢問的目的  
(D)警察人員於調查兒童及少年遭受性剝削案件時，詢問被害人應通知社工陪同在場
- 48 兒童及少年性剝削防制條例中，下列何者不屬於「兒童或少年性剝削」行為？  
(A)使兒童或少年為有對價之性交或猥褻行為  
(B)利用兒童或少年為性交、猥褻之行為，以供人觀覽  
(C)散布兒童或少年為性交或猥褻行為之圖畫、照片、影片、影帶、光碟、電子訊號或其他物品  
(D)使兒童或少年坐檯陪酒或涉及色情之伴遊、伴唱、伴舞等行為
- 49 下列關於實施指認犯罪嫌疑人的注意事項，何者錯誤？  
(A)實施指認，應指派案件偵辦人員辦理。但因情況急迫或事實上之原因不能為之，而有全程連續錄音及錄影者，得由非案件偵辦人員辦理  
(B)指認應於設置單面鏡之偵詢室或適當處所進行，並全程連續錄音及錄影  
(C)指認前應由指認人先就犯罪嫌疑人特徵進行陳述，並詢問指認人與犯罪嫌疑人之關係及雙方實際接觸之時間地點，以確認指認人對於犯罪嫌疑人之知覺記憶為客觀可信  
(D)指認前不得向指認人提供任何具暗示或誘導性之指示或資訊，並應告知指認人，犯罪嫌疑人未必存在於被指認人之中
- 50 司法警察偵查犯罪時，因符合「特殊情形」且情況急迫，得執行逕行拘提（或稱為緊急拘提），於執行後，應即報請檢察官簽發拘票。如檢察官不簽發拘票時，應即將被拘提人釋放。下列關於「特殊情形」的敘述，請選出最正確者？  
(A)在執行或在押中之脫逃者  
(B)逃亡或有事實足認為有逃亡之虞者  
(C)有事實足認為有湮滅、偽造、變造證據或勾串共犯或證人之虞者  
(D)所犯為死刑、無期徒刑或最輕本刑為 5 年以上有期徒刑之罪者

# 測驗式試題標準答案

考試名稱：108年公務人員特種考試警察人員、一般警察人員考試及108年特種考試交通事業鐵路人員  
、退除役軍人轉任公務人員考試

類科名稱：刑事鑑識人員

科目名稱：犯罪偵查（試題代號：5509）

單選題數：50題

單選每題配分：2.00分

複選題數：

複選每題配分：

標準答案：

題號	第1題	第2題	第3題	第4題	第5題	第6題	第7題	第8題	第9題	第10題
答案	A	D	B	D	D	B	A	D	D	B

題號	第11題	第12題	第13題	第14題	第15題	第16題	第17題	第18題	第19題	第20題
答案	B	A	C	A	C	B	D	A	C	C

題號	第21題	第22題	第23題	第24題	第25題	第26題	第27題	第28題	第29題	第30題
答案	A	D	A	D	D	A	D	C	B	B

題號	第31題	第32題	第33題	第34題	第35題	第36題	第37題	第38題	第39題	第40題
答案	C	A	C	A	D	B	A	B	A	C

題號	第41題	第42題	第43題	第44題	第45題	第46題	第47題	第48題	第49題	第50題
答案	C	B	D	B	A	C	C	C	A	A

題號	第51題	第52題	第53題	第54題	第55題	第56題	第57題	第58題	第59題	第60題
答案										

題號	第61題	第62題	第63題	第64題	第65題	第66題	第67題	第68題	第69題	第70題
答案										

題號	第71題	第72題	第73題	第74題	第75題	第76題	第77題	第78題	第79題	第80題
答案										

題號	第81題	第82題	第83題	第84題	第85題	第86題	第87題	第88題	第89題	第90題
答案										

題號	第91題	第92題	第93題	第94題	第95題	第96題	第97題	第98題	第99題	第100題
答案										

備註：